

ESCOLA: \_\_\_\_\_

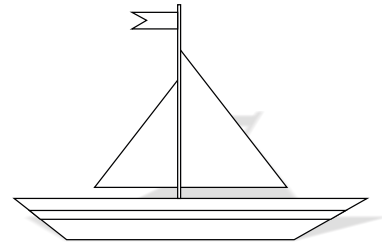


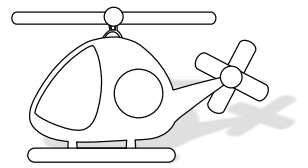



NOME: \_\_\_\_\_

PROFESSOR: \_\_\_\_\_ DATA: \_\_\_/\_\_\_/\_\_\_



## NÚMEROS ORDINAIS

1 - Observe estes desenhos.



O trem é o 1º    A boneca é a \_\_\_\_    O barco é o \_\_\_\_    O robô é o \_\_\_\_

O ursinho é o \_\_\_\_    O carro é o \_\_\_\_    O helicóptero é o \_\_\_\_    O caminhão é o \_\_\_\_

2- Desenhe duas bananas na 2ª cesta e um abacaxi na 4ª cesta.

